

Velikonoční týden – 1. ročník 29. 3. – 31. 3.

Připomínám:

všechny sešity a pracovní sešity i kontrolní list odevzdat ve škole ke kontrole (složku nebo tašku prosím podepsat) - v pondělí 29.3. - v 7:30 – 8:00

vyzvednout opravené sešity - úterý 30.3. - v 7:30 – 8:00



Online výuka na příští týden

- nezapomeňte každý den číst svou vlastní četbu a zapisujte do čteníčku ☺

den	od – do	předmět
Pondělí 29.3.	8:00 – 8:45	ČJ, M, ČT/PS
Úterý 30.3.	9:45 – 10:30	ČJ, M
Středa 31.3.	8:00 – 8:45	ČJ, M


Tento týden si Marečku uděláme velikonoční.

Na každou hodinu si připrav psací potřeby.

Na úkolech budeme pracovat společně i samostatně. Každý den ti povím, co budeš dělat sám ☺

Tak se připrav,

VELIKONOČNÍ ŘÁDĚNÍ ZAČÍNÁ.



1. Marečku, najdi cestu k vajčkům 😊



Printables.se

2. Do sešitu psaní napiš 20 slov, které patří k Velikonocům – nezapomeň napsat dnešní datum 😊

3. Splň úkoly – za odměnu si vymaluj zajíčky

1 Spoj příklady se stejnými výsledky.

$7 + 12$	14	$20 - 1$	$20 - 3$	8	$8 + 9$
$18 - 4$	19	$7 + 7$	$15 - 7$	17	$20 - 12$
$10 + 10$	5	$18 + 2$	$9 + 6$	3	$8 + 7$
$14 - 9$	20	$12 - 7$	$19 - 16$	15	$12 - 9$
$16 - 3$	9	$20 - 7$	$3 + 8$	2	$9 + 2$
$13 - 4$	13	$4 + 5$	$19 - 17$	11	$12 - 10$

2 Dej do kroužku příklady s výsledkem 20.

$13 + 7$	$12 + 10$	$10 + 10$	$14 + 6$
$18 + 2$	$16 + 3$	$11 + 8$	$10 + 9$
$8 + 11$	$7 + 14$	$5 + 12$	$3 + 17$
$0 + 20$	$19 + 1$	$7 + 9$	$11 + 10$



4. Najdi druhou polovinu vajíčka, vybarvi stejnou barvou, vypočítej příklad a pod správný výsledek napiš správné písmeno

List 2

1	2	3	4	5	6	7	8	9	10
V									

Se slovem z tajenky vymysli větu a napiš ji

5. Slabikář str. 61

6. Do sešitu psaní přepiš ze slabikáře: celý 3. odstavec – Máma se usmívá. Každou větu na nový řádek

Namaluj 3 obrázky k Velikonocům

7. Splň úkoly

Spoj obrázky, která k sobě patří a doplň prázdná.



$10+3$ $10+2$ $10+1$ $10+8$ $10+8$ $10+7$ $10+6$


11 12 13 14 15 16 17 18

Výše slovní úlohu.
Otakar na Velikonocce vykoledoval 10 vajíček
a Marek 8 vajíček.
Kolik kluci vykoledovali dohromady?

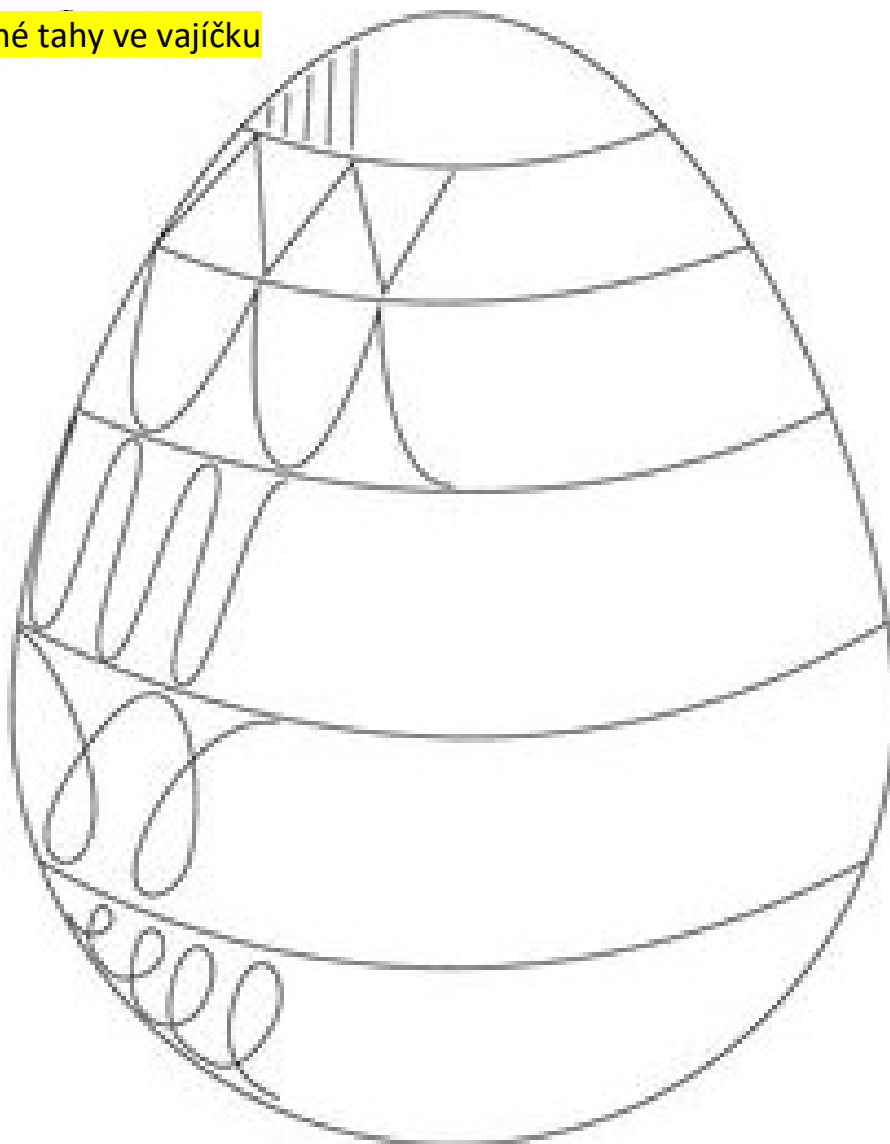
Kdo vykoledoval více vajíček a o kolik?



8. Marečku, najdi 10 rozdílů 😊 - domaluj červenou pastelkou



9. Dopiš přesné tahy ve vajíčku




10. Vypočítej za každý sloupeček si za odměnu vybarvi vajíčko

Vypočítej.

$16 + 4 =$ _____	$7 + 13 =$ _____	$15 + 2 + 2 =$ _____
$8 + 12 =$ _____	$17 - 2 =$ _____	$19 - 3 - 2 =$ _____
$12 + 7 =$ _____	$6 + 14 =$ _____	$16 + 2 + 1 =$ _____
$17 + 3 =$ _____	$18 - 5 =$ _____	$19 - 1 - 2 =$ _____
$5 + 15 =$ _____	$10 - 2 =$ _____	$4 + 4 + 2 =$ _____
$17 + 2 =$ _____	$19 + 1 =$ _____	$10 - 2 - 5 =$ _____
$19 + 1 =$ _____	$19 - 1 =$ _____	$13 + 2 + 4 =$ _____
$13 + 7 =$ _____	$15 - 4 =$ _____	$20 - 6 - 4 =$ _____
$14 + 6 =$ _____	$18 - 4 =$ _____	$7 + 3 + 4 =$ _____
$10 - 2 =$ _____	$14 + 6 =$ _____	$18 - 3 - 5 =$ _____
$10 - 3 =$ _____	$18 + 2 =$ _____	$15 + 4 + 1 =$ _____
$10 - 4 =$ _____	$19 - 3 =$ _____	$10 - 3 - 2 =$ _____
$10 - 7 =$ _____	$5 + 15 =$ _____	$5 + 14 + 1 =$ _____
$10 - 1 =$ _____	$2 + 18 =$ _____	$10 - 6 - 2 =$ _____
$10 - 6 =$ _____	$18 - 3 =$ _____	$18 - 7 - 1 =$ _____
$10 - 5 =$ _____	$3 + 17 =$ _____	$14 + 4 + 2 =$ _____

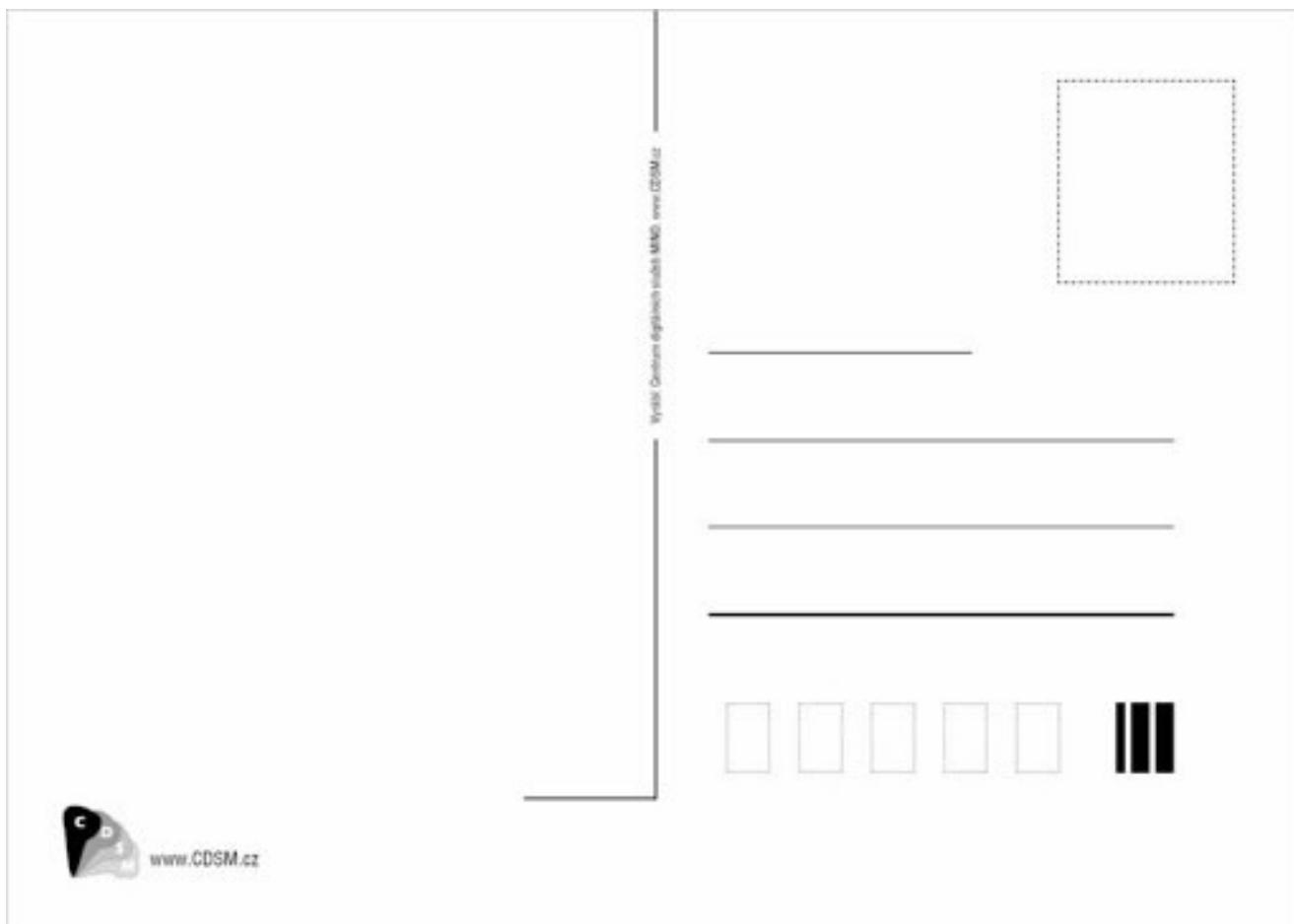
POČÍTÁNÍ V OBORU ČÍSEL DO 20 BEZ PŘECHODU ZÁKLADNÍ 10

29



11. Napiš velikonoční přání babičce a dědečkovi

(můžeš si vyrobit svou vlastní pohlednici a poslat poštou) – nalep na tvrdý papír, vys z druhé strany nakresli obrázek 😊



12. Opět najdi 10 rozdílů

