

1. Příklady vypočítej. Písmenko zapiš do rámečku ke správnému výsledku. Vylušti tajenku.

$13 + 2 =$	Č	$16 + 3 =$	M	$11 + 3 =$	T
$16 + 2 =$	U	$12 + 4 =$	S	$13 + 4 =$	P
$12 + 1 =$	E	$10 + 1 =$	O	$11 + 1 =$	Í

18 15 12 19 13

16 13

17 11 15 12 14 14  
      A


2. Děti natrhaly na louce květiny. Spočítej, kolik je květin ve vázách, a vypočítej slovní úlohy.

Babička dostala ..... sedmikrásek a ..... pampelišek.

**Kolik květin dostala babička celkem?**

Vypočítej:

Odpověz: Babička dostala celkem ..... květin.



BABIČKA

Maminka dostala ..... sedmikrásek a ..... vlčí máky.

**Kolik květin dostala maminka celkem?**

Vypočítej:

Odpověz: Maminka dostala celkem ..... květin.



MAMINKA

**Kdo dostal víc květin?**

Porovnej:

Odpověz: Víc květin dostala .....

3. Vypočítej příklady a výsledky porovnej. Do kroužku doplň znak >, <, nebo =.

$12 + 3 =$    $11 + 2 =$     
  $14 + 3 =$    $13 + 4 =$     
  $14 + 2 =$    $11 + 9 =$

$13 + 1 =$    $12 + 2 =$     
  $15 + 5 =$    $16 + 1 =$     
  $17 + 2 =$    $16 + 3 =$




A. Vyberání rámečky s příklady, které mají stejný výsledek jako je číslo na začátku řádku.


15	$13 + 2$	$15 - 13$	$19 - 17$	$8 + 7$
12	$7 - 7$	$9 + 3$	$5 - 2$	$18 - 6$
19	$10 - 2$	$10 + 9$	$17 + 2$	$8 + 5$
13	$8 + 5$	$12 + 6$	$20 - 7$	$17 + 2$
18	$11 + 1$	$9 - 0$	$11 + 7$	$9 + 9$

B. Vyberání rámečky s příklady, které mají stejný výsledek jako je číslo na začátku řádku.

20	$12 + 8$	$8 + 1$	$19 - 7$	$17 + 3$
11	$10 + 1$	$10 - 1$	$12 + 5$	$6 + 5$
17	$20 - 20$	$10 + 7$	$5 + 4$	$8 + 9$
14	$15 + 1$	$15 - 1$	$14 - 0$	$10 - 7$
16	$6 + 7$	$9 + 7$	$8 + 8$	$8 + 11$



Vybarvi tolik sluníček, kolik si zasloužíš za rozluštění tajenky.



# VYBARVI

Modré oko

Hnědý méďa

Růžový tulipán

Oranžová čepice

Žluté sluníčko

Šedé letadlo

Fialové hrozno

Červené jablíčko

